



# QUELLE HEURE EST-IL ?




1



2



3



4



5



6




7




8




9



10



11



12



13



14



15




16


# QUELLE HEURE EST-IL ?




Il est cinq heures  
moins cinq.



Il est trois heures  
moins cinq.




Il est onze heures  
moins vingt.




Il est huit heures  
moins vingt.



Il est dix-neuf heures  
moins vingt.



Il est une heure  
vingt-cinq.




Il est onze heures  
vingt-cinq.




Il est trois heures et  
quart.



Il est midi vingt.



Il est cinq heures  
moins cinq.



Il est trois heures  
moins cinq.




Il est onze heures  
moins vingt.



Il est vingt heures  
moins cinq



Il est six heures  
moins vingt



Il est une heure  
vingt-cinq



Il est onze heures  
vingt-cinq